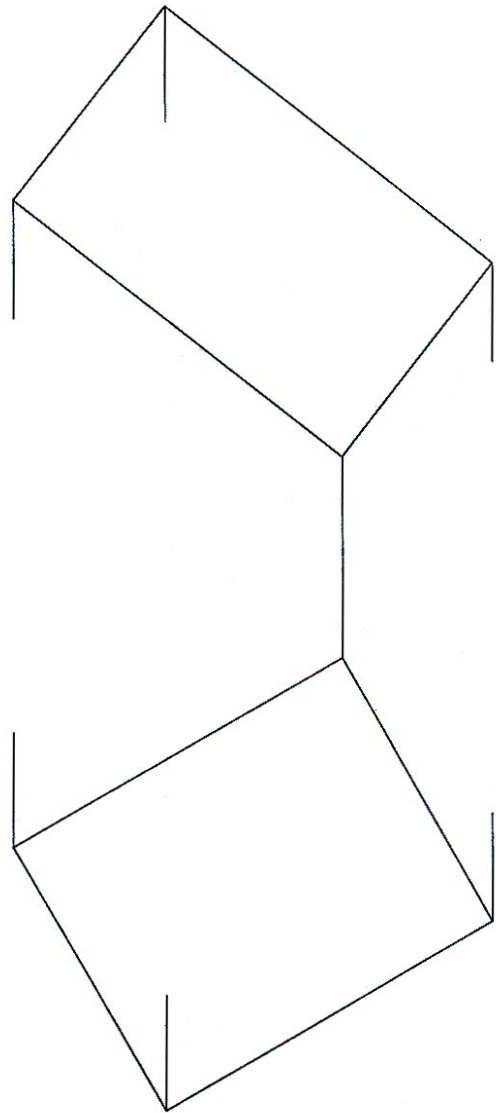


Dibuix 2, OPCIÓ A

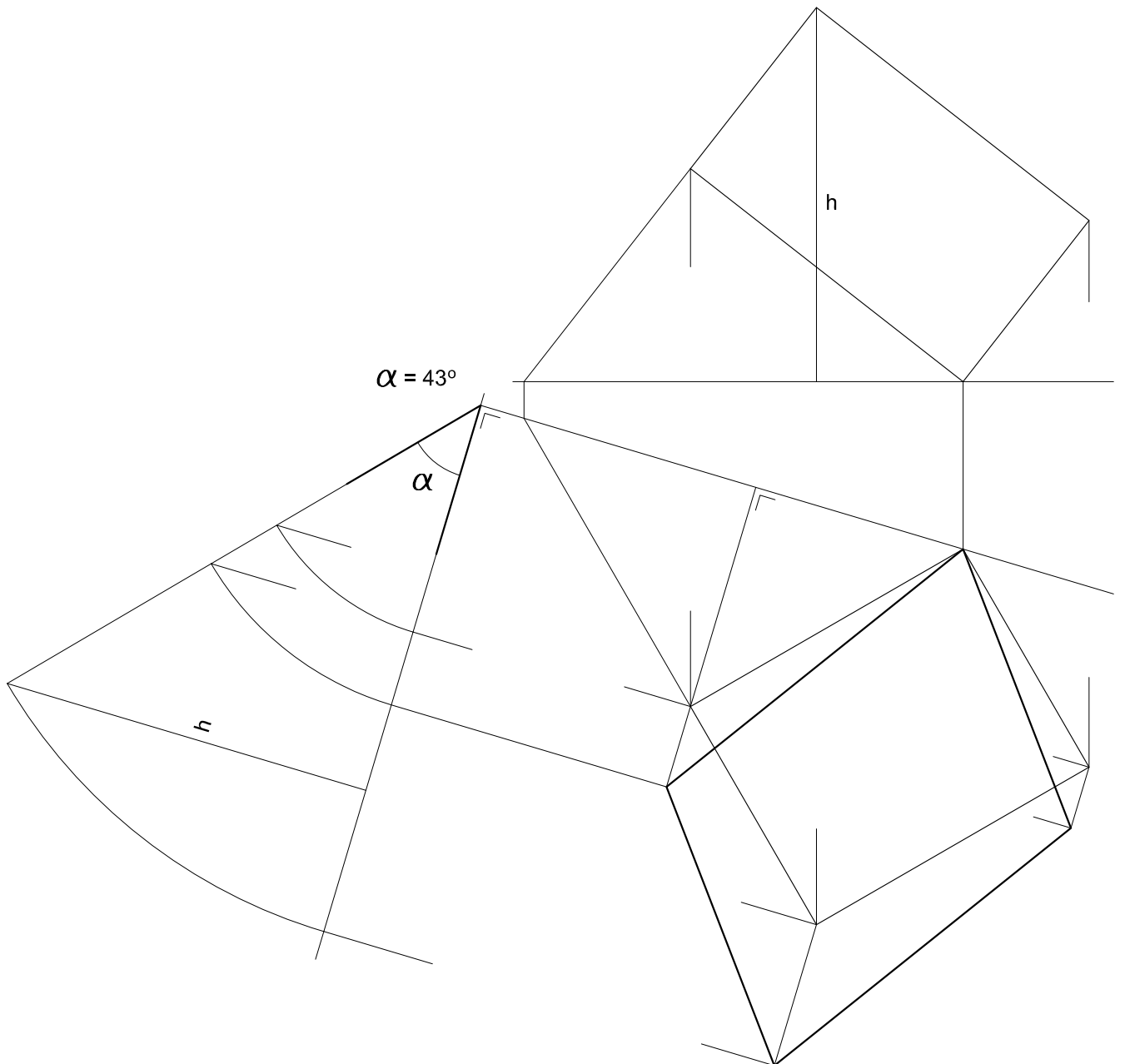
Tema: Dièdric, determinació d'un angle i de la magnitud vertadera d'una figura plana.

Dades: Projeccions d'un quadrilàter.

Exercici [qualificació màxima 3,5 punts]: Determineu gràficament l'angle que formen el pla del quadrilàter amb un pla horitzontal i assenyalau-lo amb la lletra α [1 punt]. Dibuixeu la magnitud vertadera del quadrilàter [2,5 punts].



S3.2A

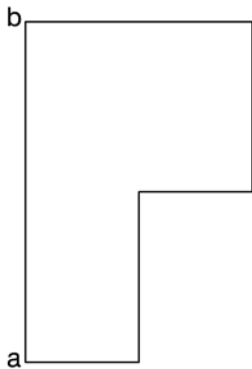
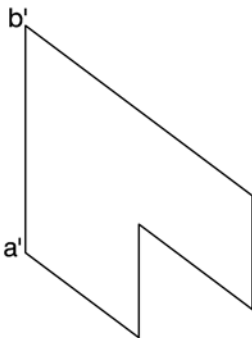


Dibuix 2. Opció A

TEMA: Dièdric, determinació d'un angle i de la magnitud vertadera d'una figura plana.

DADES: Projeccions d'un polígon.

EXERCICI: Determineu gràficament l'angle que formen el pla de la figura plana amb un pla horitzontal i senyaleu-lo amb la lletra α . Dibuixeu la magnitud vertadera de la figura plana. [4 punts: 3 punts per la magnitud vertadera de la figura plana i 1 punt per la resta]



S3.2A

