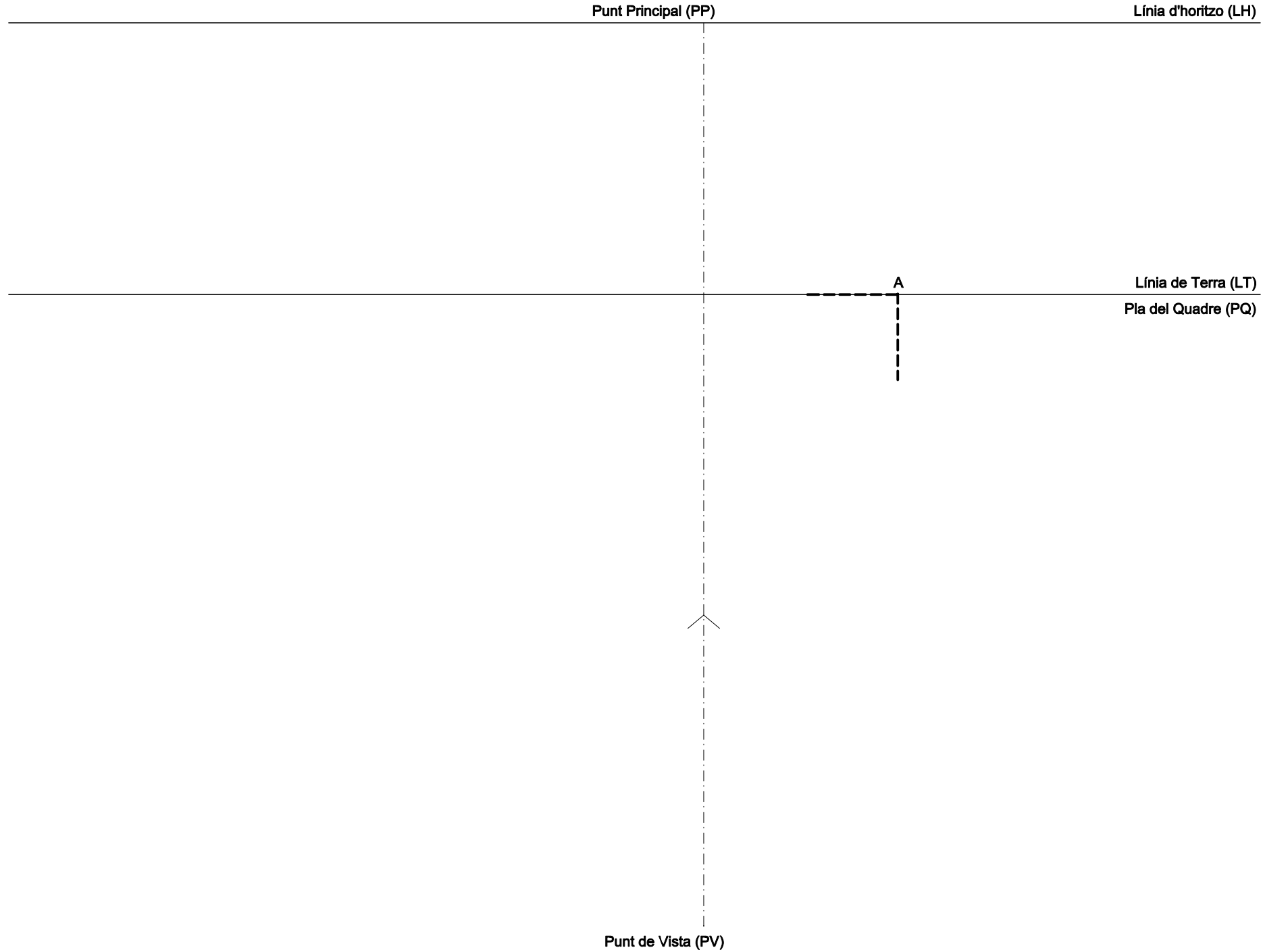


EXERCICI 1

DIBUIXEU UN QUADRAT DE 50 mm DE COSTAT, PERPENDICULAR AL PLA DEL QUADRE, QUE ESTÀ SITUAT A UNA ALÇADA DE 30mm.
SITUEU EL QUADRAT AMB UN DELS SEUS COSTATS SOBRE EL PLA DEL QUADRE. EL PUNT (A) ÉS EL VÈRTEX SITUAT MÉS A LA DRETA

(2 punts)



EXERCICI 2

DIBUIXEU UN QUADRAT DE 35 mm DE COSTAT, ELS COSTATS DEL QUAL FORMEN 45° AMB EL PLA DEL QUADRE, ES TROBA A UNA DISTÀNCIA D'AQUEST DE 20 mm. I, ALHORA. A UNA ALÇADA DE 40mm. RESPECTE AL PLA DE TERRA.


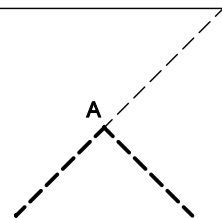
2

(2 punts)

Línia d'horitzo (LH)

Línia de Terra (LT)

Pla del Quadre (PQ)



CAL QUE SITUEU EL PUNT DE VISTA (PV) ON CONSIDEREU

ACTIVITATS CINQUENA QUINZENA DT-I BLOC-2

EXERCICI 3

DIBUIXEU LA CIRCUMFERÈNCIA DONADA QUE ES TROBA A UNA ALTURA DE 70mm. DEL PLA DE TERRA I A UNA DISTÀNCIA DEL PLA DEL QUADRE DE 80mm.

3

(3 punts)

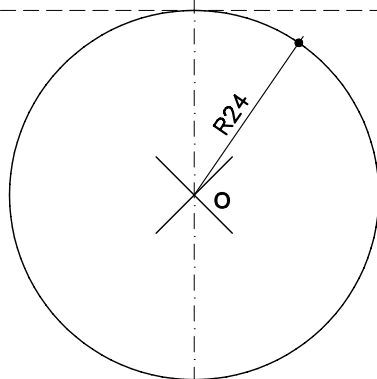
Línia d'horitzo (LH)

Punt Principal (PP)

Línia de Terra (LT)

Pla del Quadre (PQ)

80



Punt de Vista (PV)

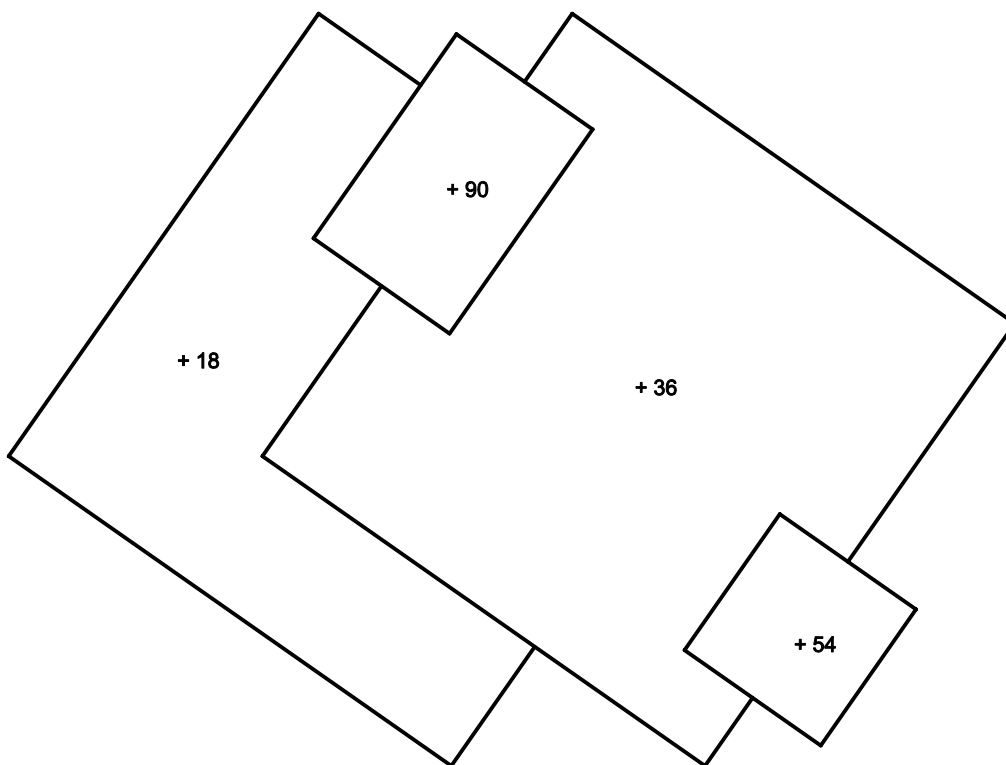
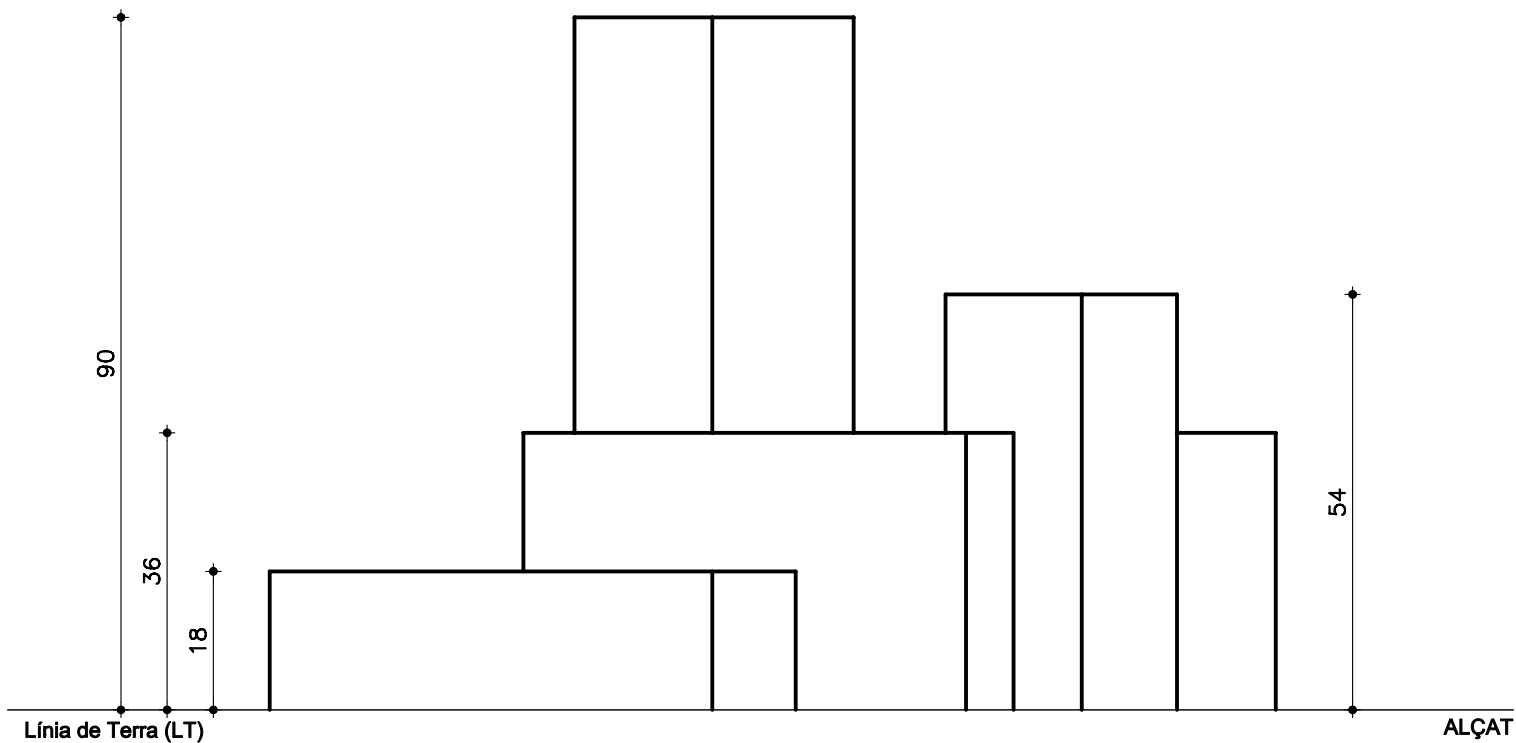
ACTIVITATS CINQUÈ LLIURAMENT DT-I BLOC-2

EXERCICI 4

DONADES LA PLANTA I L'ALÇAT DEL CONJUT DIBUIXEU:
LA PERSPECTIVA LINIAL SEGONS LES DADES DEL FULL 4.1.

4

(3 punts)



Pla del Quadre (PQ)

PLANTA

