

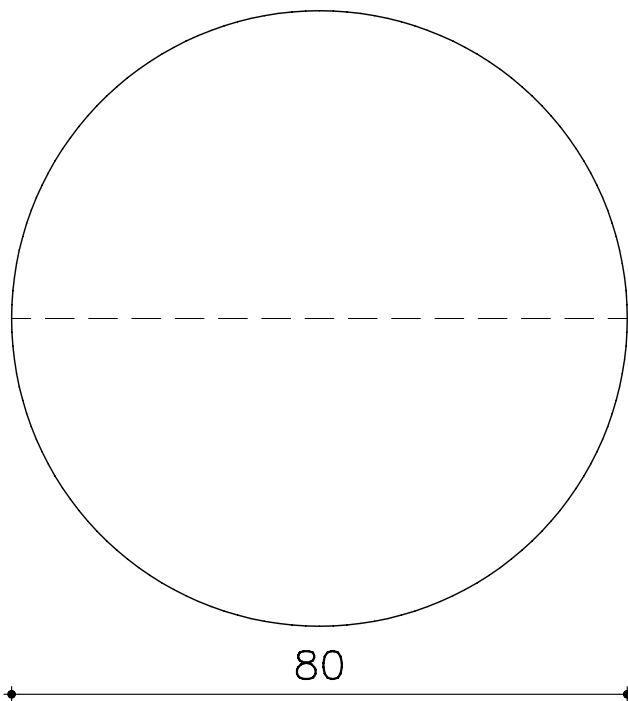
ACTIVITATS SEGON LLIURAMENT DT-I BLOC 1

EXERCICI 1

POLÍGONS:

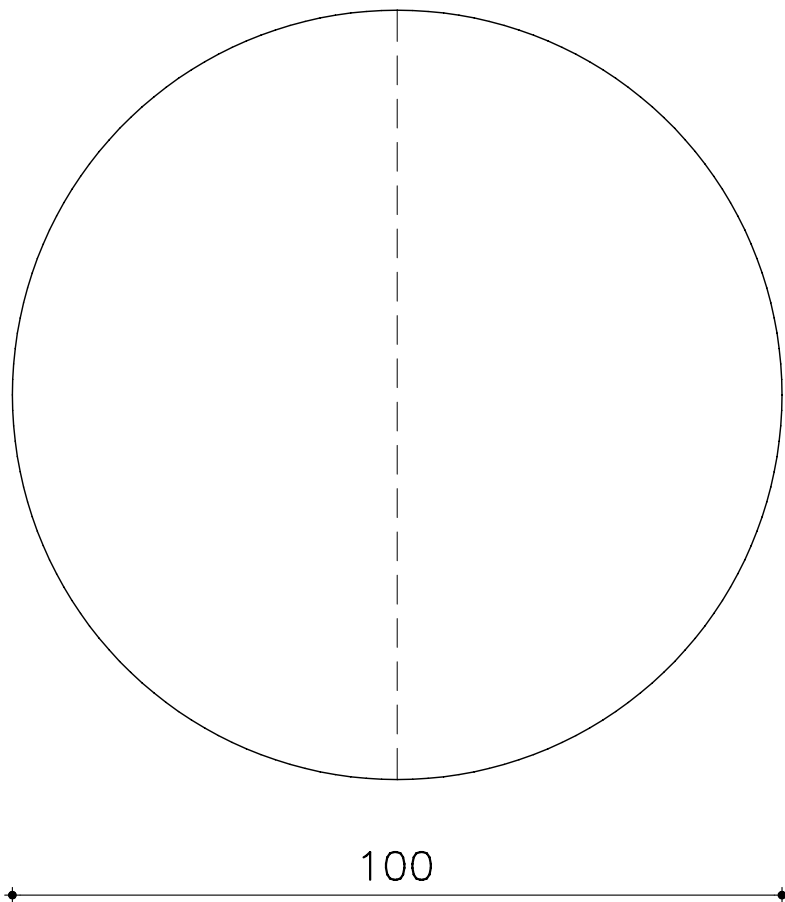
- 1.1. DIBUIXEU UN PENTÀGON REGULAR INSCRIT EN UNA CIRCUMFERÈNCIA DE 80mm.
(UTILITZEU EL MÈTODE PARTICULAR).

1



- 1.3. DIBUIXEU UN PENTÀGON REGULAR DONAT EL COSTAT: 65mm.
(UTILITZEU EL MÈTODE PER SEMBLANÇA).

1.3. DIBUIXEU UN HEPTÀGON REGULAR INSCRIT EN UNA CIRCUMFERÈNCIA DE 100mm.
(UTILITZEU EL MÈTODE GENERAL).



1.4. DIBUIXEU UN QUADRAT AMB UNA DIAGONAL DE 60 mm.
PODEU FER-L'HO INSCRIT EN UNA CIRCUMFERÈNCIA O BÉ PER SEMBLANÇA.

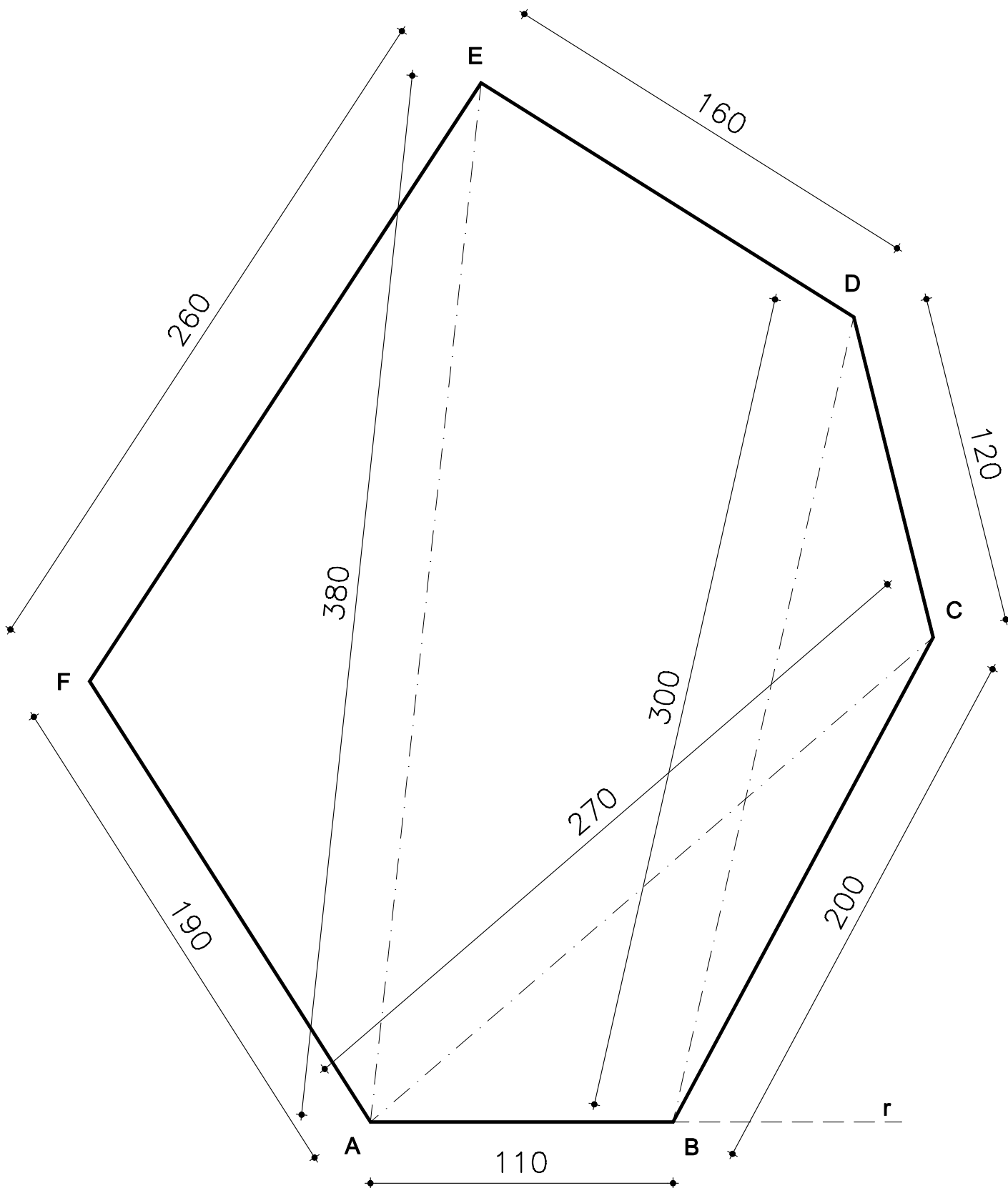
ACTIVITATS SEGON LLIURAMENT DT-I BLOC 1

EXERCICI 2

A PARTIR D'UNA RECTA r , CONSTRUÏU ELS TRIANGLES PROPOSATS AMB LES DADES. Cotes en metres. APLIQUEU UNA ESCALA DE REDUCCIÓ D' 1:2000 A LES COTES DONADES.

3

UTILITZEU EL COMPÀS PER A TROBAR ELS VÈRTEXS.




ACTIVITATS SEGON LLIURAMENT DT-I BLOC 1

EXERCICI 2

REPRODUIU EL MODEL RESPECTANT r .

3.1

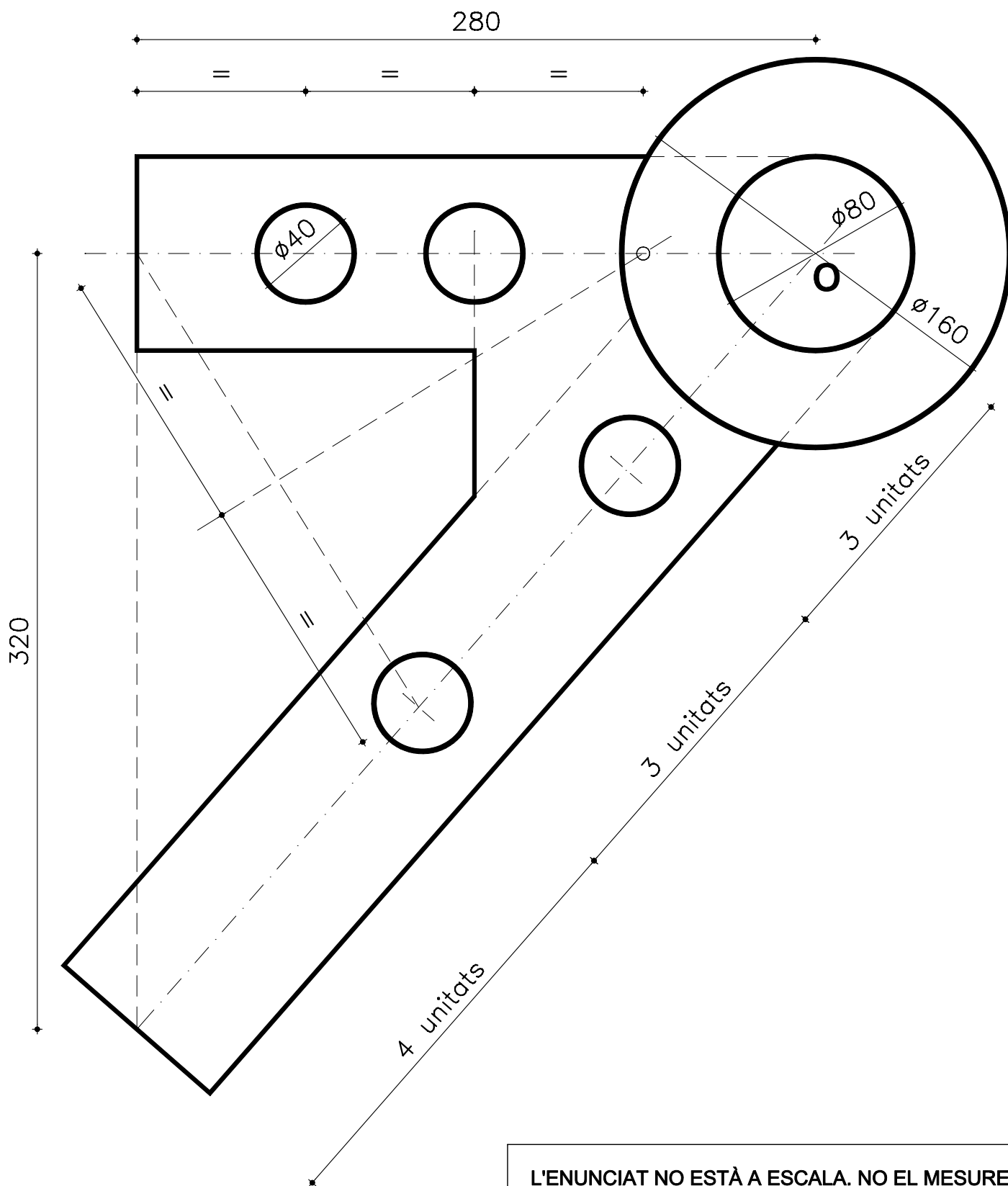


ACTIVITATS SEGON LLIURAMENT DT-I BLOC 1

EXERCICI 3

DIBUIXEU LA FIGURA DEL CROQUIS A ESCALA E:1/2. LES COTES SÓN EN mm.

4



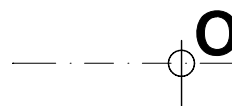
L'ENUNCIAT NO ESTÀ A ESCALA. NO EL MASUREU.

ACTIVITATS SEGON LLIURAMENT DT-I BLOC 1

EXERCICI 2

RESOLEU L'EXERCICI RESPECTANT EL CENTRE FACILITAT.

4.1



E: 1/2
COTES EN mm.