


# Prova inicial de Dibuix Tècnic I

Nom:

Dibuixeu a **mà alçada** o respongueu, en l'espai corresponent els conceptes següents:

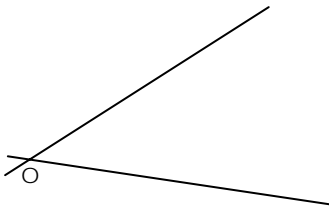
1. Mediatriu d'un segment.



6. Classifiqueu els triangles omplint el quadre:

Angles	Costats
1.	
2.	
3.	


2. Bisectriu d'un angle.



7. Feu una relació dels **Sistemes de Representació**:


- 1.
- 2.
- 3.
- 4.

3. Divisió d'un segment en **3 parts** iguals.

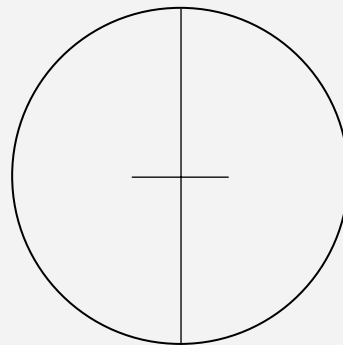


8. Quins tipus d'**axonometria** coneixes:

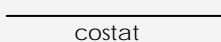
4. Arc capaç de **30°** respecte al segment donat



9. Dibuixeu un heptàgon inscrit en una circumferència



5. Un pentàgon regular a partir del **costat** donat.



10. Dues rectes paral·lel·les en perspectiva cònica es representen com a (escull una opció):

- Equidistants
- Convergens en un punt
- Paral·leles
- Tangents