
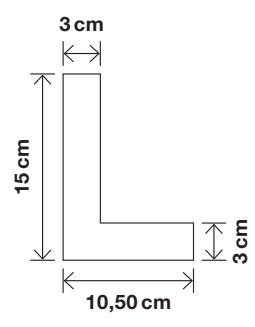


ACTIVITAT 4: LA LLETRA L

Els conductors novells porten al cotxe una placa amb un distintiu que és una lletra dins d'un rectangle: la L (lletra inicial de la paraula anglesa *Learning*).



12 La lletra L té les mides següents:
 Alçada: 15 cm, amplada: 10,50 cm i gruix de la lletra: 3 cm
 (El dibuix **no** està fet a escala)

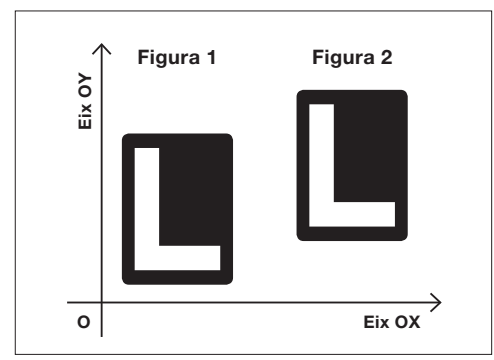


Quina és l'àrea de la lletra L?

- a. 31,50 cm²
- b. 67,50 cm²
- c. 76,50 cm²
- d. 157,50 cm²

13 Dins del requadre de la dreta, la figura 1 s'ha transformat per un vector de translació en la figura 2. Quin és aquest vector de translació?

- a.
- b.
- c.
- d.



14 La figura de l'esquerra es pot transformar en la figura de la dreta a través...

- a. d'una simetria.
- b. d'una translació.
- c. d'un gir de 45°.
- d. d'un gir de 90°.

