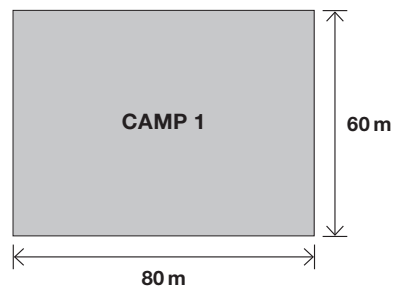


ACTIVITAT 5: CAMPS

Tenim un camp (camp 1) de forma rectangular que fa 80 metres de llarg per 60 metres d'ample.



- 1** Volem tancar tot el camp. Si el preu per metre lineal de tanca és de 12 €, quant costarà tancar-lo?

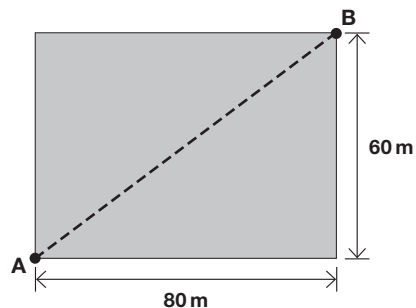
Resposta: _____ €

0-1

m

- 2** Una companyia de serveis necessita fer una rasa excavant el terreny en la direcció marcada entre els dos extrems A i B del camp.

Quants metres ha d'excavar la companyia de serveis per unir els dos extrems A i B?

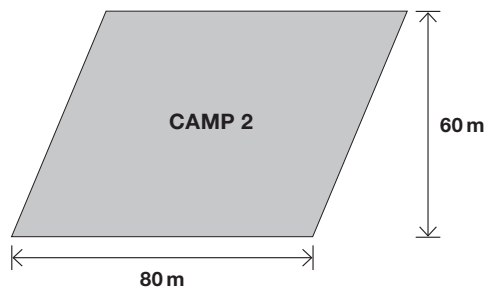
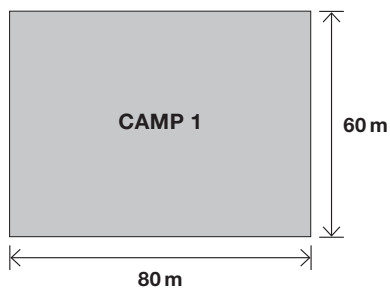


Resposta: _____ m

0-1

n

- 3** Si tenim un altre camp (camp 2) amb les dimensions següents:



Tancar el camp 1 és...

més car que tancar el camp 2.

igual de car que tancar el camp 2.

menys car que tancar el camp 2.

0-1

o