


ACTIVITAT 2: ARTESANIA A LA XARXA

L'Eva fa ninots de fusta i els ven per Internet.




- 8** Un ninot costa 8 euros i la col·lecció sencera, formada per 6 ninots, 36 euros si es compra d'un sol cop. Quin és el percentatge d'estalvi si es compra la col·lecció sencera?
- a. 12 %
 - b. 25 %
 - c. 33 %
 - d. 36 %

- 9** Els ninots, els envia en una capsa de 10 cm x 16 cm x 5 cm que després posa dins d'un sobre per a enviaments.

Quines són les dimensions mínimes que ha de tenir el sobre perquè hi càpiga la capsa?

- a. 10 cm x 16 cm
- b. 15 cm x 16 cm
- c. 15 cm x 21 cm
- d. 20 cm x 26 cm



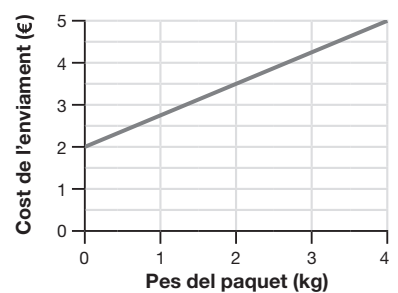
- 10** Per fer una previsió del material per als propers mesos, l'Eva ha calculat la mitjana mensual de comandes dels primers cinc mesos de l'any. Quina ha estat aquesta mitjana?

MESOS	GENER	FEBRER	MARÇ	ABRIL	MAIG
Nombre de comandes	12	18	10	16	19

- a. 15
- b. 16
- c. 17
- d. 18

- 11** L'Eva envia les comandes mitjançant una empresa de missatgeria. Per cada enviament cal pagar una quantitat fixa més una quantitat que varia segons el pes del paquet.

Observa el gràfic. Quina és la quantitat fixa que cal pagar per cada enviament i quant cal pagar exactament per cada quilogram del paquet?



NO ESCRIGUIS EN AQUEST ESPAI

Respon i fes els càlculs i/o raonaments matemàtics per justificar la resposta a la PART 2 del FULL DE RESPOSTES.