

ACTIVITAT 4: ANEM AL CAP NORD

Una família vol anar amb cotxe a Noruega. Pensen arribar al Cap Nord.

De Barcelona a Oslo, capital de Noruega, faran 2.400 km i des d'Oslo al Cap Nord faran 2.250 km.



- 1** Suposant que fins a Oslo fan uns 600 km diaris de mitjana i que després fins al Cap Nord fan uns 225 km diaris, quants dies han de preveure per fer el viatge d'anada de Barcelona al Cap Nord?

Resposta: _____ dies

0-1

r

- 2** Des d'Oslo al Cap Nord la família suposa que el cotxe consumirà 8 litres de gasolina cada 100 km (8 litres/100 km). Quants litres de gasolina consumirà el cotxe en aquesta part del viatge (2.250 km)?

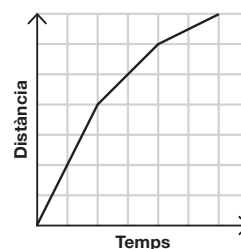
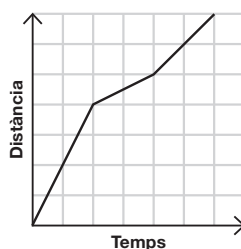
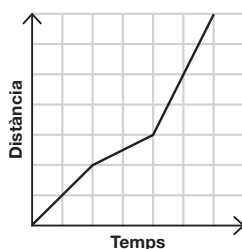
Resposta: _____ litres de gasolina

0-1

s

- 3** Abans de marxar, diversos membres de la família fan proves de conducció. La Natàlia condueix un dia durant tres hores. La primera hora viatja a 100 km/h; la segona, a 25 km/h, i la tercera, a 50 km/h.

Quin gràfic representa millor la prova de conducció realitzada per la Natàlia?



0-1

t