


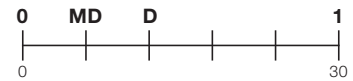
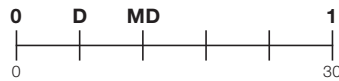
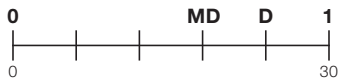
ACTIVITAT 1: ELS OUS, UN ALIMENT BÀSIC

Els ous es venen habitualment per mitges dotzenes i per dotzenes.

Darrerament, també es comercialitzen en safates de 30, disposats de la manera que es veu a la imatge.



- 1** Suposa que la safata de 30 ous és la unitat. Marca amb una X la figura que correspon a la representació de mitja dotzena (MD) i una dotzena (D) d'ous.



0-1

a

- 2** Els ous es classifiquen segons el pes. Els de tipus A pesen al voltant de 75 grams. Calcula els grams que pot pesar una safata amb 30 ous de tipus A.

Resposta: _____ g

0-1

b

- 3** Si el nombre de safates d'ous de tipus A és x i el pes en quilograms (kg) de totes les safates és y , marca l'expressió algebraica que hi correspon.

$y = 105x$

$y = 2,25x$

$y = 0,075x$

0-1

c

- 4** La mitjana del pes de 3 ous ha estat 75 grams. Si el pes de 2 ous ha estat de 73 g i 77 g, quants grams ha pesat el tercer ou?

Resposta: _____ g

0-1

d