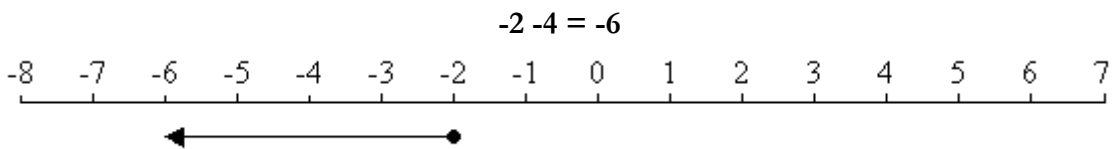
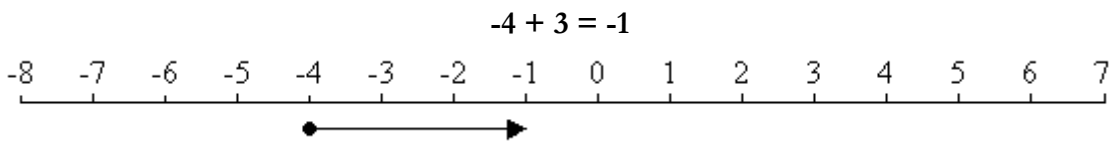
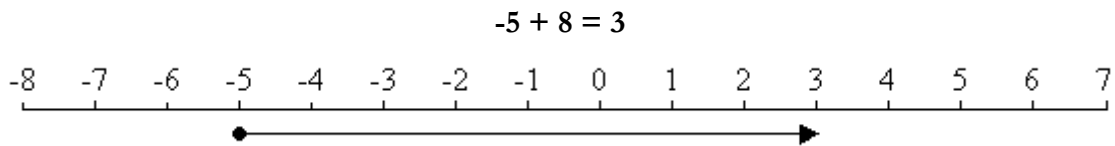
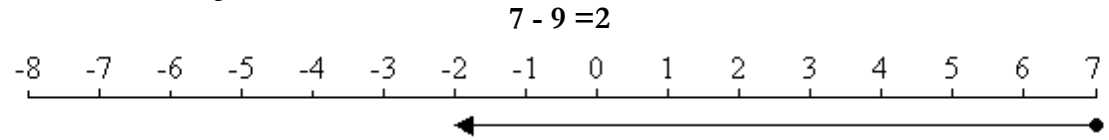


Fitxa A Suma i resta de nombres enters

Nom alumne/a: _____

Grup: _____

Fixa't en els exemples:



Fes el mateix amb els següents exercicis:

a) $6 - 8 =$



b) $5 - 7 =$



c) $2 - 4 =$



d) $-3 + 2 =$



e) $-6 + 9 =$



f) $-7 + 2 =$



g) $-5 + 3 =$



h) $-9 + 1 =$



i) $-3 + 5 =$



j) $-6 + 5 =$



k) $-4 + 4 =$



l) $-5 + 4 =$



m) $-3 - 2 =$



n) $-5 - 4 =$



o) $-1 - 3 =$

