



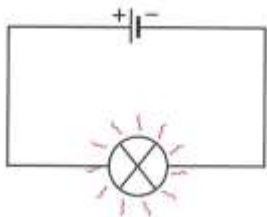
INS La Pineda

Nom: _____

1r d'ESO Grup: _____

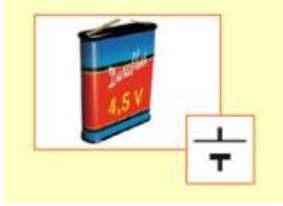
QÜESTIONARI

- 1.- El conjunt de coneixements aplicats per satisfer les necessitats humanes es diu:
a) Tecnologia b) Matemàtiques c) Experimentals d) Enginyeria
- 2.- Les fases que cal seguir per construir un objecte es diu:
a) Recerca b) Tècnica c) Procés tecnològic d) Treball
- 3.- La fase que ens informa si s'ha satisfet o no la necessitat humana es diu:
a) Descripció b) Avaluació c) Execució d) Informació
- 4.- El lloc on es desenvolupen els processos tecnològics es diu:
a) Aula b) Laboratori c) Aula de tecnologia d) Consergeria
- 5.- La zona per guardar materials, equipaments, eines, treballs es diu:
a) Magatzem b) De disseny c) D'execució d) Muntatge
- 6.- Les normes que ens diuen com utilitzar correctament els espais, eines, màquines es diuen:
a) Seguretat b) Conservació c) Riscos d) Ús
- 7.- Les normes que ens diuen com mantenir correctament els espais, eines, màquines es diuen:
a) Seguretat b) Conservació c) Riscos d) Ús
- 8.- Ordena les següents fases posant un "1" a la primera i un "5" a l'última:
 - Pintar la cadira • Necessitat de seure a la teva habitació
 - Croquis • Veure diferents cadires en botigues • Buscar-hi defectes
- 9.- El suport que s'utilitza per dibuixar es diu:
a) Taula b) Safata c) Estri d) Paper
- 10.- La mida normalitzada d'un paper es diu:
a) Format b) A3 c) DIN d) 8B
- 11.- Aquest dibuix se li diu:



- a) Dibuix elèctric b) Esquema elèctric c) cable elèctric d) bombeta elèctrica

12.- Aquest elements es diu?



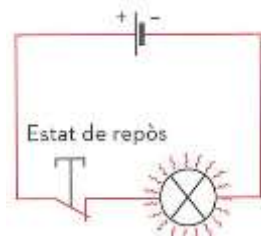
- a) Portamines b) Fusible c) Bateria d) Bombeta

13.- Aquest elements es diu?



- a) Interruptor b) Medidor c) carcasa d) Pila

14.- En aquest circuit la bombeta està:



- a) Enllumenada b) Encesa c) apagada d) Fosa

15.- Les gomes d'esborrar poden ser:

- a) Dures b) Toves c) Mitjanes d) Correctes l'a i b

16.- L'instrument rectangular de poc gruix graduat en mil·límetres per traçar línies es diu:

- a) Escaire b) Cartabó c) Compàs d) Regle

17.- L'instrument que té forma de triangle, els angles del qual són 90°, 30° i 60° es diu:

- a) Escaire b) Cartabó c) Compàs d) Regle

18.- L'instrument per mesurar angles es diu:

- a) Transportador b) Flexòmetre c) Anglímetre d) Angulòmetre

19.- L'instrument per dibuixar arcs i circumferències es diu:

- a) Escaire b) Cartabó c) Compàs d) Regle

20.- Un dibuix més detallat que conté informació i fet a mà es diu:

- a) Croquis b) Plànol c) Esbós d) Dibuix

21.- Un dibuix representat amb exactitud i amb estris de dibuix es diu:

- a) Croquis b) Plànol c) Esbós d) Dibuix

22.- El PVC serveix per?

- a) Tubs i perfils b) envasos d'aigua c) Cordes d) Piscines

23.- El PET serveix, per?

- a) Cordes b) envasos d'aigua c) tacs d) Paviments

24.- Quan els plàstics s'escalfen és deformen i no es poden tornar a reutilitzar, parlem d'un plàstic?

- a) Termoplàstic b) Termoelàstic c) termoestable d) Tuboelàstic

25.-Els plàstics són:

- a) Lleugers b) Pesants c) Proporcionals d) alterats

26.- La desforestació, és quan un bosc:

- a) Desapareix b) El reutilitzem c) Replantem d) Ampliem

27.- La reforestació, és necessària per evitar:

- a) La ampliació b) La putrefacció c) La desforestació d) Limitació

28.- Reduir, Reutilitzar i Reciclar significa:

- a) Consumir meys, donar una altra funció a l'objecte i recuperar material.
b) consumir més, fer la mateixa funció i llançar l'objecte.
c) Consumir menys, donar una altra funció i cremar el material.
d) Consumir més, fer la mateixa funció i recuperar el material.

29.- Quina eina no pertany a la família



- a) Xerrac
b) Xerrac de punta
c) Serra de marqueteria
d) Gúbia

30.- Cóm és diu aquesta eina?.



- a) Serjant
b) Enformador
c) Cargol de banc
d) Serjant tipus G

31.- Quina eina no pertany a la família:



- a) Badaina
b) alicates
c) Lima
d) Raspa plana

32.- Cóm és diu aquesta eina?.



- a) Tornavís
b) Martell de pena
c) Maça
d) Martell d'orelles

