



A partir del visionat dels videotutorials del document '**Links**': **Tutorials de 'Youtube'** realitza les activitats següents:

·Dibuixa, **a partir dels costats donats**, els següents polígons regulars utilitzant el **regle** i el **compàs**:

·Triangle equilàter

·Quadrat



·Pentàgon



·Hexàgon



·Heptàgon



·Octàgon




·Dibuixa, inscrits en les circumferències, els següents **polígons regulars estrellats**, tria l'ordre que vulguis.

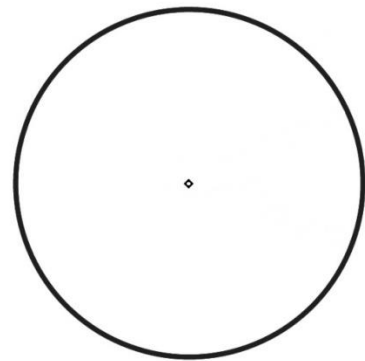
Tingues present que, primer hauràs de dibuixar els polígons regulars inscrits en les circumferències donades per tal de trobar els vèrtexs a partir del visionat dels vídeotutorials **Polígons regulars inscrits en una circumferència** després, hauràs de visionar els vídeotutorials **Polígons regulars estrellats** per tal de dibuixar l'estrella corresponent a cada polígon demanat.

Recorda utilitzar el **regle** i el **compàs**.


·Pentàgon




·Hexàgon



·Heptàgon



·Octàgon



·Enneàgon

