












1. **PENSAR.** Observa les següents xifres: $9 - 8 - 7 - 6 - 5 - 4$.
Construeix amb elles dos nombres de 3 xifres cadascú, de manera que quan es resten el resultat sigui el nombre més menut possible.

2. **TRES XICS.** L' Ivan és més gran que en Pere; en Pere és més jove que en Daniel, i en Daniel és més jove que l' Ivan. Quin dels tres és més gran? I el més jove?

3. **GERMANS.** Una mare té sis fills. Cada fill té una germana. Quants fills/es té la mare?

4. **NOMBRES DESCONEGUTS.** Quin nombre representa cada figura?

			6
			8
			7
4	9	8	